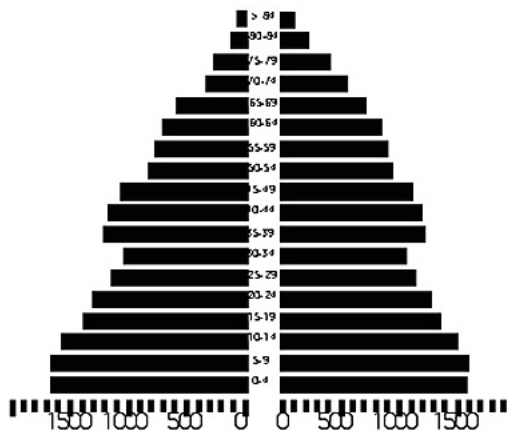
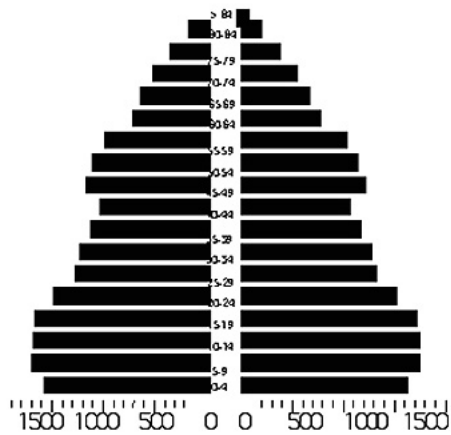


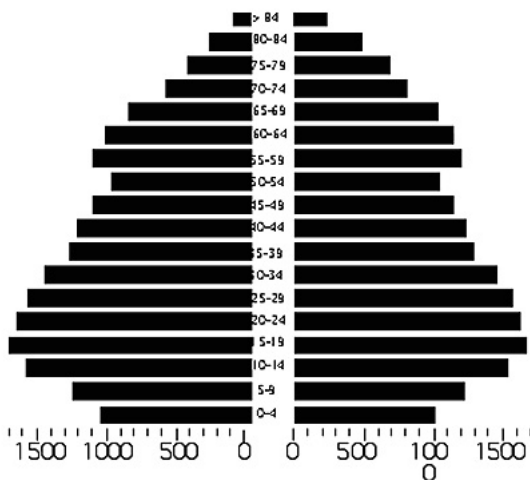
CUADERNO DE EJERCICIOS	Evaluación: Tercera
Curso: 2º de Bachillerato.	
Asignatura: Geografía de España.	
Bloque: Demografía y ordenación territorial	
Unidad: 12. Geografía Urbana y Ordenación del Territorio	



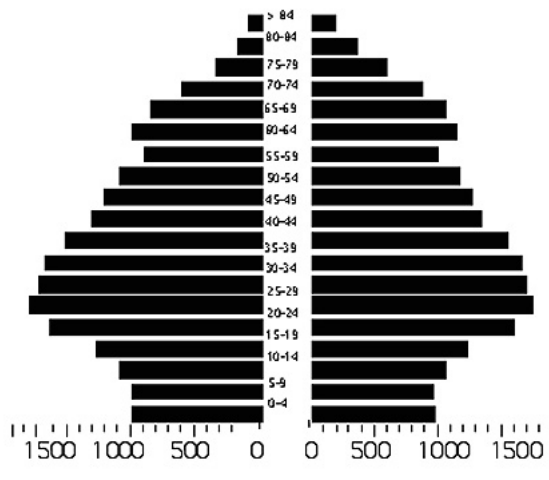
1970



1981



1991



2001

Ejercicio: Comenta cada una de estas pirámides atendiendo a su forma, evolución, periodo histórico y sex- ratio. Haz una redacción ordenada siguiendo estos puntos:

1. presentación del gráfico: qué tipo de gráfico es y para que se utiliza.
2. Características del mismo
3. Condiciones históricas que afectan a la forma de la pirámide
4. Sex- ratio
5. Posible evolución.