



Prueba de Acceso a la Universidad de Extremadura

Curso 2007-08

Asignatura: GEOGRAFÍA DE ESPAÑA

Tiempo máximo de la prueba: 90 minutos

El alumno deberá elegir una de las dos opciones completas de examen, sin posibilidad de que se puedan combinar preguntas de ambos.

La puntuación total de cada una de las opciones será de 10 puntos, pudiendo modificarse en un punto la calificación final por la presentación, ortografía y calidad de redacción, a juicio del corrector.

OPCIÓN A:

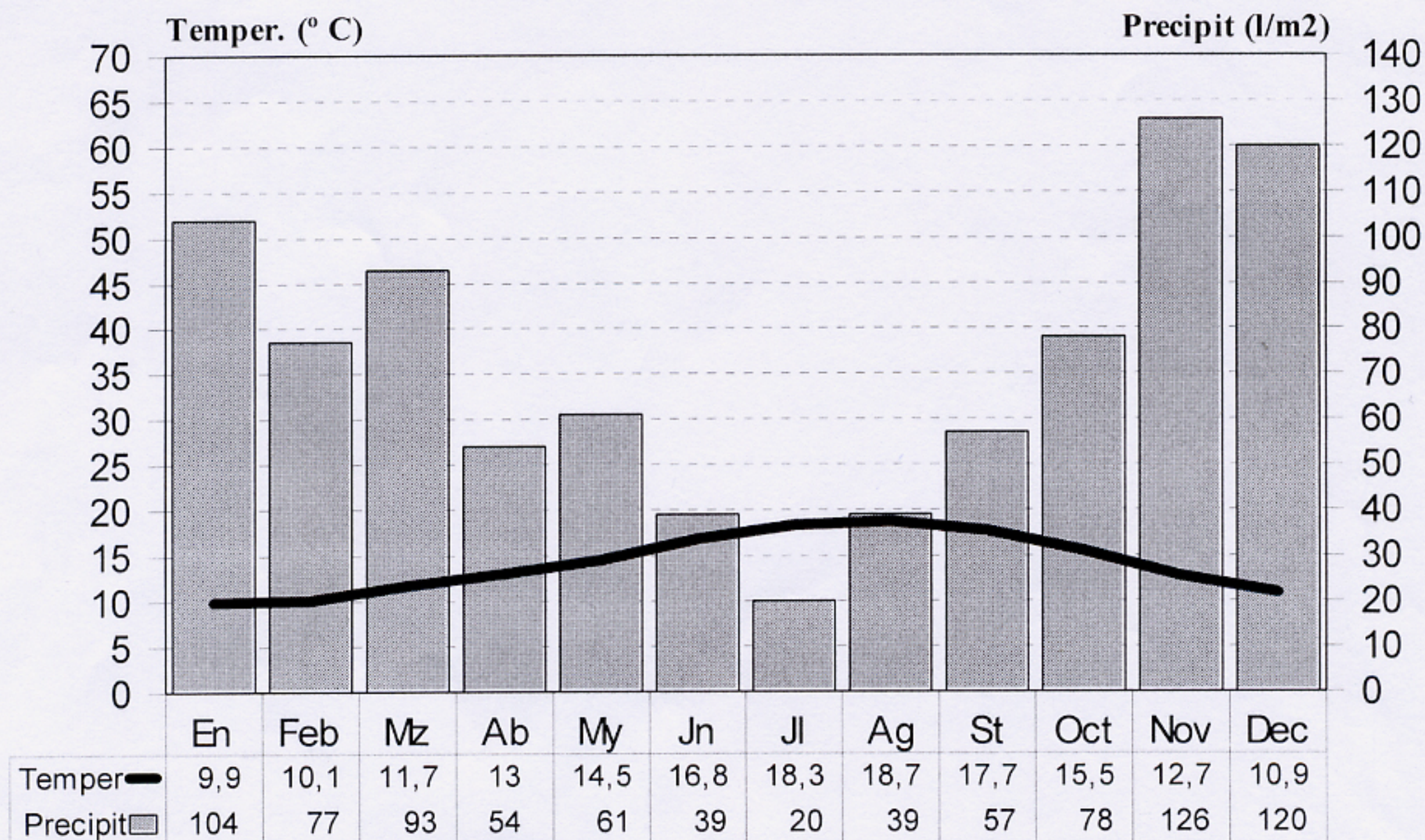
1.- Responda a uno de los temas siguientes:

A.- La actividad agraria en España y Extremadura

B.- Distribución espacial de la población española y extremeña.

La respuesta se desarrollará, como máximo, en dos caras de folio, y se valorará con tres puntos.

2.- A la vista del siguiente climograma:



Temperatura Media Anual: 14,1 °C

Precipitación Anual: 868 mm.



Prueba de Acceso a la Universidad de Extremadura
Curso 2007-08

Asignatura: GEOGRAFÍA DE ESPAÑA

OPCIÓN A

Tiempo máximo de la prueba: 90 minutos

- a).- **Indique las características fundamentales de este clima.**
b).- **Explique estas características en función de los factores que las determinan e intente razonar la localización del observatorio.**

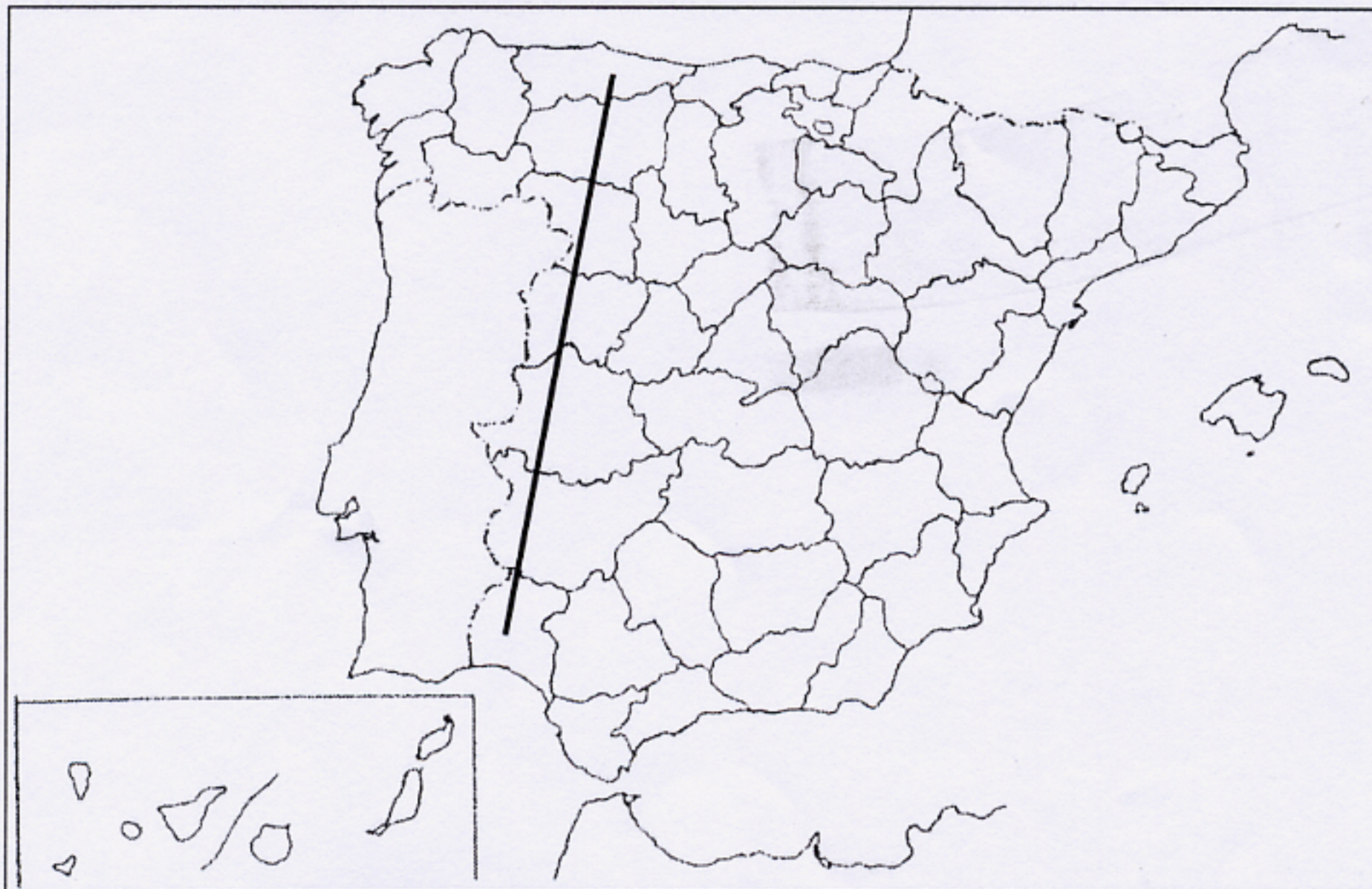
El comentario se desarrollará en la cara de un folio y se valorará con tres puntos.

3.- Defina brevemente los siguientes términos geográficos y ponga algún ejemplo en relación con ellos:

- **Orogenia**
- **Glaciación**
- **Esclerófilo**
- **Reconversión Industrial**
- **O.M.C.**

Cada una de las respuestas se valorará con 0.4 puntos, hasta un total de dos puntos.

4.- En uno de los folios del examen, relacione –de Norte a Sur- las provincias atravesadas por la línea, así como los sistemas montañosos y los ríos principales



La respuesta se valorará con un máximo de dos puntos.



Prueba de Acceso a la Universidad de Extremadura

Curso 2007-08

Asignatura: GEOGRAFÍA DE ESPAÑA

Tiempo máximo de la prueba: 90 minutos

El alumno deberá elegir una de las dos opciones completas de examen, sin posibilidad de que se puedan combinar preguntas de ambos.

La puntuación total de cada una de las opciones será de 10 puntos, pudiendo modificarse en un punto la calificación final por la presentación, ortografía y calidad de redacción, a juicio del corrector.

OPCIÓN B:

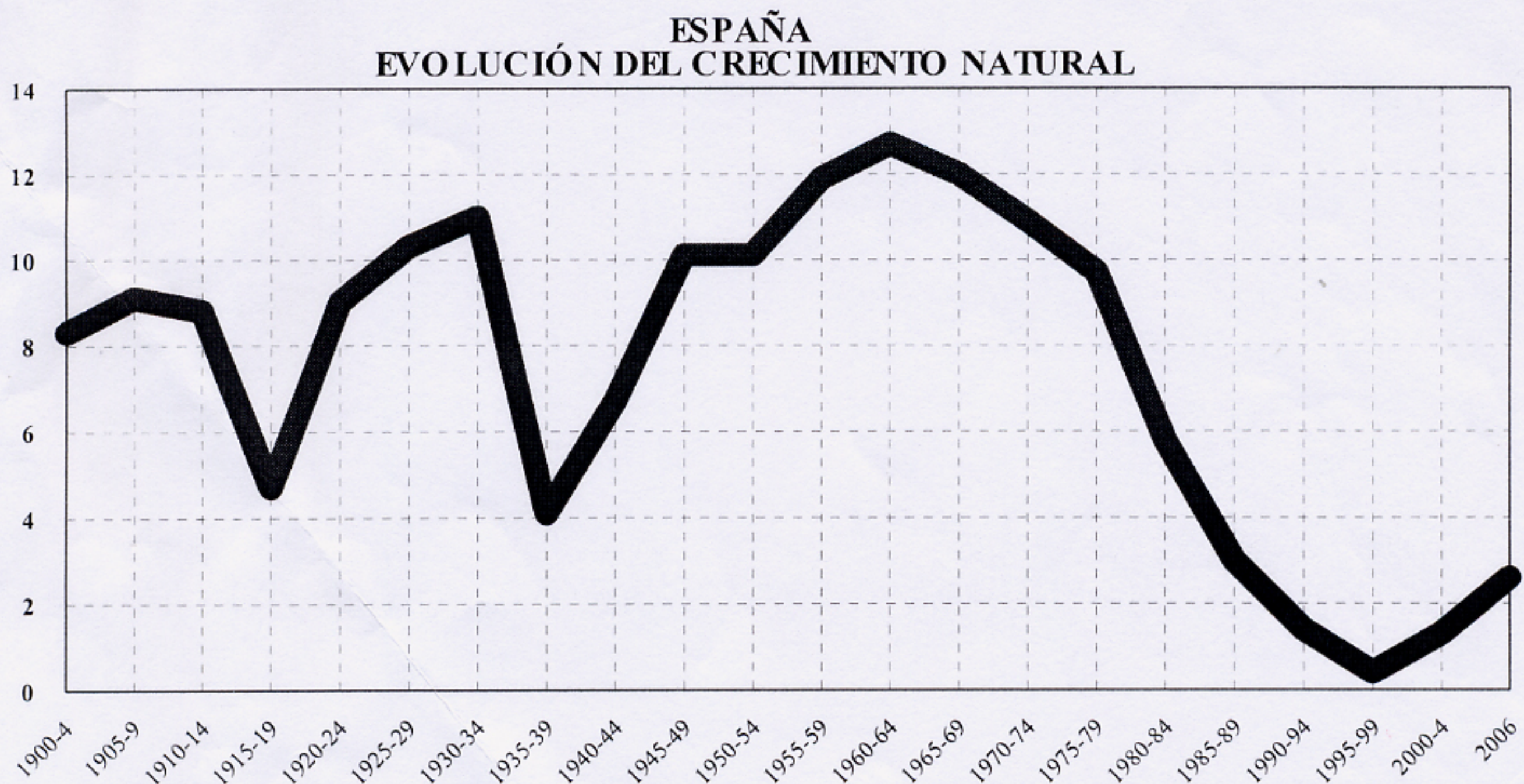
1.- Responda a uno de los temas siguientes:

A.- La diversidad climática en España. El clima de Extremadura

B.- Las migraciones exteriores en España: 1) La emigración continental. 2) El fenómeno actual de la inmigración extranjera

La respuesta se desarrollará, como máximo, en dos caras de folio, y se valorará con tres puntos.

2.- A la vista del siguiente gráfico, en el que aparece representada la evolución del Crecimiento Natural o Vegetativo en España (diferencia entre la natalidad y la mortalidad)





Prueba de Acceso a la Universidad de Extremadura
Curso 2007-08

Asignatura: GEOGRAFÍA DE ESPAÑA

OPCIÓN B:

Tiempo máximo de la prueba: 90 minutos

- a).- Indica las principales etapas que pueden diferenciarse en dicho proceso evolutivo
- b).- Indica las razones que han propiciado la existencia de tasas diferentes y explica el cambio de situación ocurrido desde finales de los años noventa.

El comentario se desarrollará en la cara de un folio y se valorará con tres puntos.

3.- Defina brevemente los siguientes términos geográficos y ponga algún ejemplo en relación con ellos:

- Zócalo
- Campiña
- Envejecimiento demográfico
- Energías renovables
- OTAN

Cada una de las respuestas se valorará con 0.4 puntos, hasta un total de dos puntos.

4.- En uno de los folios del examen, relacione –de NE a SO- las provincias atravesadas por la línea, así como los sistemas montañosos y los ríos principales



La respuesta se valorará con un máximo de dos puntos.