



Prueba de Acceso a la Universidad de Extremadura

Curso 2008-09

Asignatura: GEOGRAFÍA DE ESPAÑA

Tiempo máximo de la prueba: 90 minutos

El alumno deberá elegir una de las dos opciones completas de examen, sin posibilidad de que se puedan combinar preguntas de ambos.

La puntuación total de cada una de las opciones será de 10 puntos, pudiendo modificarse en un punto la calificación final por la presentación, ortografía y calidad de redacción, a juicio del corrector.

OPCIÓN A:

1.- Responda a uno de los temas siguientes:

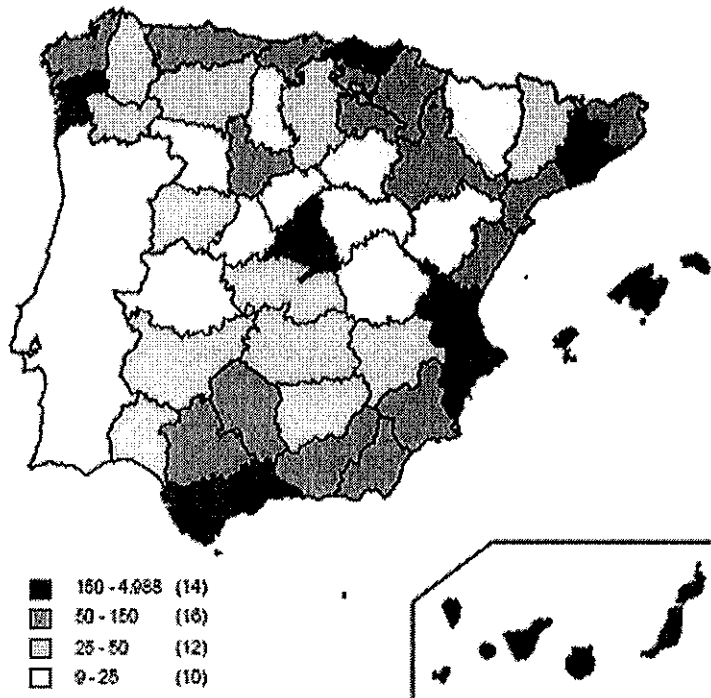
1.- Responda a uno de los temas siguientes:

A.- El sistema urbano español

B.- El roquedo peninsular y los tipos de relieve

La respuesta se desarrollará, como máximo, en dos caras de folio, y se valorará con tres puntos.

2.- El siguiente mapa representa la densidad de población (habitantes por Km²) de las provincias españolas en el año 2007. Obsérvalo detenidamente y responde a las siguientes preguntas:





Prueba de Acceso a la Universidad de Extremadura Curso 2008-09

Asignatura: GEOGRAFÍA DE ESPAÑA

Tiempo máximo de la prueba: 90 minutos

a).- **¿Qué características presenta esta distribución de la población?**

b).- **¿Qué factores permiten explicar dicha distribución?**

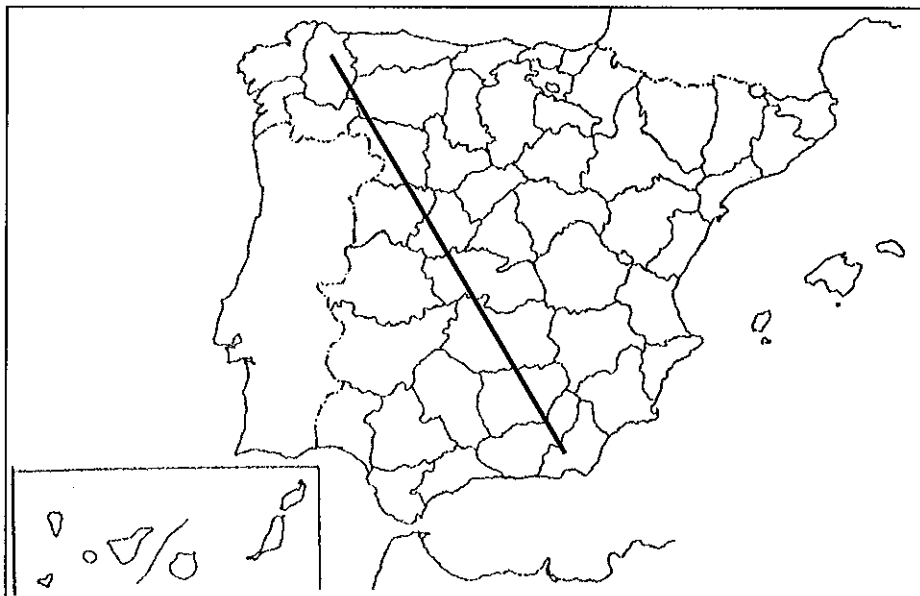
El comentario se desarrollará en la cara de un folio y se valorará con tres puntos.

3.- Defina brevemente los siguientes términos geográficos y ponga algún ejemplo en relación con ellos:

- Gota fría
- Continentalidad
- Rural
- Esclerófilo
- OCDE

Cada una de las respuestas se valorará con 0.4 puntos, hasta un total de dos puntos.

4.- En uno de los folios del examen, relacione –de NO a SE- las provincias atravesadas por la línea, así como los sistemas montañosos y los ríos principales



La respuesta se valorará con un máximo de dos puntos.



Prueba de Acceso a la Universidad de Extremadura

Curso 2008-09

Asignatura: GEOGRAFÍA DE ESPAÑA

Tiempo máximo de la prueba: 90 minutos

El alumno deberá elegir una de las dos opciones completas de examen, sin posibilidad de que se puedan combinar preguntas de ambos.

La puntuación total de cada una de las opciones será de 10 puntos, pudiendo modificarse en un punto la calificación final por la presentación, ortografía y calidad de redacción, a juicio del corrector.

OPCIÓN B:

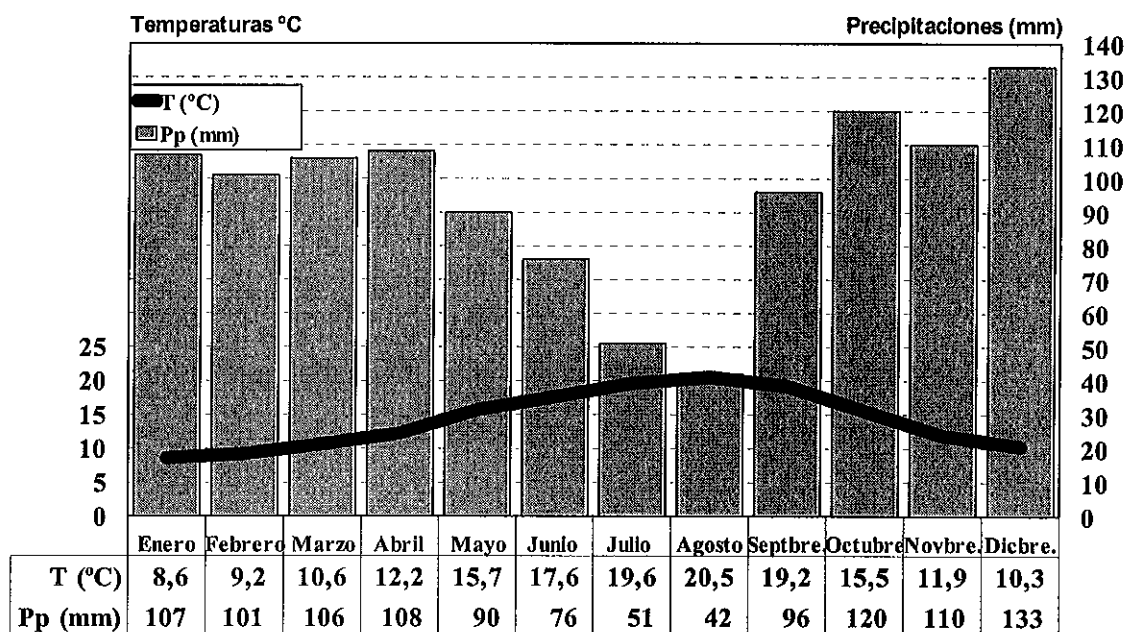
1.- Responda a uno de los temas siguientes:

A.- Los paisajes vegetales de España y Extremadura

B.- Régimen demográfico y estructura de la población española en la actualidad

La respuesta se desarrollará, como máximo, en dos caras de folio, y se valorará con tres puntos.

2.- A la vista del siguiente climograma:



Temperatura Media Anual: 14,2°

Precipitación Media Anual: 1.140 mm.



Prueba de Acceso a la Universidad de Extremadura Curso 2008-09

Asignatura: GEOGRAFÍA DE ESPAÑA

Tiempo máximo de la prueba: 90 minutos

- a).- Indique las características fundamentales de este clima.
b).- Explique estas características en función de los factores que las determinan e intente razonar la localización del observatorio.

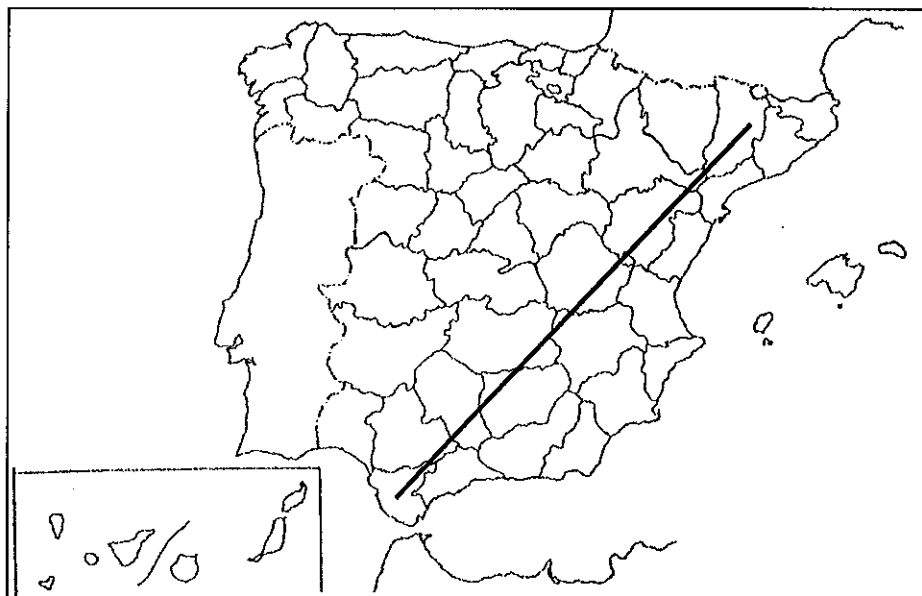
El comentario se desarrollará en la cara de un folio y se valorará con tres puntos.

3.- Defina brevemente los siguientes términos geográficos y ponga algún ejemplo en relación con ellos:

- Meseta
- Borrasca
- Openfield
- Agroindustria
- Industrialización endógena

Cada una de las respuestas se valorará con 0.4 puntos, hasta un total de dos puntos.

4.- En uno de los folios del examen, relacione –de NE a SO- las provincias atravesadas por la línea, así como los sistemas montañosos y los ríos principales



La respuesta se valorará con un máximo de dos puntos.